

# 8. Takmičenje "Kornelije" 2022.

## Teorija muzike

IIIc kategorija - V omš  
I grupa

-----  
Ime i prezime učenika

1. Napišite tačne predznake da bi melodija bila u f-molu harmonskom:



-----  
(4 x 2,5)

Ukupno:

(10)


2. Odredi vrstu tetrahorda:

a)




-----  
(3+3)

b) Napiši tetrahorde naviše od zadatih tonova:



durski



harmonski

-----  
(3+3)

Ukupno:

(12)

3. Izgradi intervale na zadatim tonovima:

a)



V6↓

Pr2↑

V7↑


Č5↓

V3↑

Č4↑

-----  
(6x2)

b) prepoznaj intervale i napiši šifru:



-----  
(6x2)

Ukupno:

(24)

4. Napiši trozvuke od zadatih tonova:

$D_4^{\uparrow}$      $M_3^{\uparrow}$      $D_3^{\downarrow}$      $Um_4^{\uparrow}$      $D_3^{\downarrow}$      $M_3^{\downarrow}$      $Pr_3^{\uparrow}$      $M_4^{\downarrow}$

( 8 x 2,5 )

Ukupno:

(20)

5. Napiši hromatski znak ispred nota, da bi akord bio tačan:

$D7$                        $Um7$                        $D7$                        $Um7$

( 4 x 2,5 )

Ukupno:

(10)

6. Pronađi grešku u ritmu i obeleži zvezdicom:

( 4 x 3 )

Ukupno:

(12)

7. Odgovori sa tačno (T) ili netačno (N):

a) C - G je velika kvinta. ....

b) Gornji tetrahord A dura je: E-Fis-Gis-A .....

v) **Lento** je oznaka za umeren tempo. ....

g) **Staccato** znači kratko. ....

d) Sekstakord je drugi obrtaj kvintakorda. ....

đ) **cresc.** je oznaka za postupno pojačavanje. ....

( 6 x 2 )

Ukupno:

(12)

Komisija: 1.-----

2.-----

3.-----

Ukupno:

(100)