

8. Takmičenje "Kornelije" 2022.


Teorija muzike

IIIa kategorija - III omš
II grupa

Ime i prezime učenika


1. Napisanim lestvicama dodaj tonove koji nedostaju:

a) G - dur




I II III IV V VI VII I

b) h - mol harmonski



I II III IV V VI VII I

c) F - dur



I II III IV V VI VII I

b) d - mol melodijski



I II III IV V VI VII I

(4 x 3)

Ukupno:

(12)

2. U pesmi „Ivin voz“ ispod obleženih intervala upiši njihove šifre:



[] [] [] [] [] []

(7x2)

Ukupno:

(14)

3. a) Od zadatih tonova izgradi intervale naviše:



Č4 V2 M3 Č5

(4x2)

b) Dodaj predznak da bi šifre bile tačne:



V3 Č4 M2 V2

(4x2)

Ukupno:

(16)

4. a) Od zadatih tonova izgradi kvintakorde naviše:

D₃⁵ M₃⁵ M₃⁵ D₃⁵

(4 x 3)

b) Dodaj predznak da bi šifra bila tačna:

D₃⁵ M₃⁵ M₃⁵ D₃⁵

(4 x 4)

Ukupno:

(28)

5. Dopuni ritmičku vežbu ponuđenim notnim vrednostima i ritmičkim figurama. Ponuđene figure i notne vrednosti koristi samo jednom, ne smeju se ponavljati.

(6 x 2)

Ukupno:

(12)

6. Ritmičke figure poveži sa njihovim imenom:

Obrnuto punktirana figura

Triola

Punktirana figura

(3x2)

Ukupno:

(6)

7. Odgovori sa tačno (T) ili netačno (N):

a) Melodijski mol ima povišen VII stupanj. -----

b) d - mol je paralela F - dura. -----

v) g - b - d je molski trozvuk. -----

g) a - c je velika terca. -----

d) Snizilica be je predznak e - mola. -----

đ) h - c je ceo stepen. -----

(6x2)

Ukupno:

(12)

Ukupno:

(100)

Komisija: 1.----- 2.----- 3.-----