

8. Takmičenje "Kornelije" 2022.

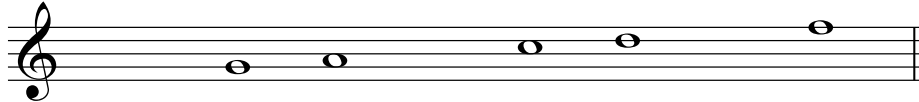
Teorija muzike

IIIa kategorija - III omš
I grupa

Ime i prezime učenika


1. Napisanim lestvicama dodaj tonove koji nedostaju:

a) F - dur



I II III IV V VI VII I

b) g - mol harmonski




I II III IV V VI VII I

c) D - dur



I II III IV V VI VII I

b) e - mol melodijski




I II III IV V VI VII I

(4 x 3)

Ukupno:

(12)

2. U pesmi „Išli smo u Afriku” ispod obleženih intervala upiši njihove šifre:



(7x2)

Ukupno:

(14)

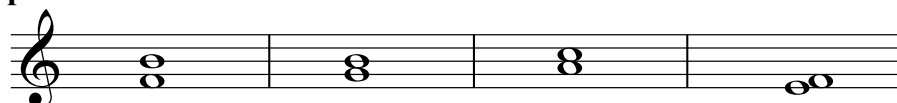
3. a) Od zadatih tonova izgradi intervale naviše:



Č5 M2 V3 Č4

(4x2)

b) Dodaj predznak da bi šifre bile tačne:



Č4 M3 V3 V2

(4x2)

Ukupno:

(16)

4. a) Od zadatih tonova izgradi kvintakorde naviše:

M₃⁵ D₃⁵ M₃⁵ D₃⁵

(4 x 3)

b) Dodaj predznak da bi šifra bila tačna:

M₃⁵ D₃⁵ M₃⁵ D₃⁵

(4 x 4)

Ukupno:

(28)

5. Dopuni ritmičku vežbu ponuđenim notnim vrednostima i ritmičkim figurama. Ponuđene figure i notne vrednosti koristi samo jednom, ne smeju se ponavljati.

(6x2)

Ukupno:

(12)

6. Ritmičke figure poveži sa njihovim imenom:

Sinkopa

Obrnuto punktirana figura

Triola

(3x2)

Ukupno:

(6)

7. Odgovori sa tačno (T) ili netačno (N):

a) Lestvica je niz od 9 tonova.

b) e - mol je paralela C - dura.

v) f - h je čista kvarta.

g) Snizilica be je predznak G - dura.

d) a - h je polustepen.

đ) Be - de - ef je durski trozvuk.

(6x2)

Ukupno:

(12)

Ukupno:

Komisija: 1.----- 2.-----3.-----