

8. Takmičenje "Kornelije" 2022.

Teorija muzike

IIIg kategorija - III i IV smš

II grupa

Ime i prezime učenika

1. Prepoznavaj lestvice zadatih melodija:




7x1

Ukupno:

(7)

2. Komponovati melodiju od 8 taktova u Es - duru sa zadatim zahtevima ispod taktova:



T _____
prolaznice

s _____
skretnice

D _____
razlaganje trozvuka

VI _____
prolaznice



II _____
razlaganje trozvuka

K _____
mutacija

D _____
prolaznice

T _____
zadržica

8x2,5

Ukupno:

(20)

3. Izgraditi septakorde od zadatih tonova:



PUM↑

VD↓

PR↑

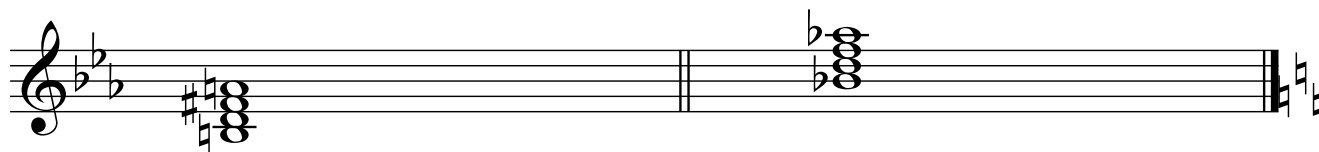
MM↓

4x2,5

Ukupno:

(10)

4. Prepoznati vrste septakorda i odrediti njihovu mnogostranost:



I-----

I-----

II-----

II-----

III-----

III-----

IV-----

IV-----

V-----

V-----

VI-----

VI-----

VII-----


VII-----

2x5

Ukupno:

(10)

5. Izgraditi šifrom obeležene akorde u određenim tonalitetima:

fis: DD₃⁴Es: N₃⁶Fis : VII D₅⁶d: DD⁷Ges: s₃⁶

5x2

Ukupno:

(10)

6. Od zadanog basovog tona, prema šifri, izgraditi akord i odrediti mu funkciju u zadanom tonalitetu:

3



b: $\flat 6$

cis: $\times \begin{matrix} 6 \\ 4 \\ 3 \end{matrix}$

Des: $\flat \begin{matrix} 5 \\ 3 \end{matrix}$




h: $\# \begin{matrix} 6 \\ 5 \\ 3 \end{matrix}$

As: $\flat \begin{matrix} 5 \\ 3 \end{matrix}$

5x2
Ukupno:

(10)

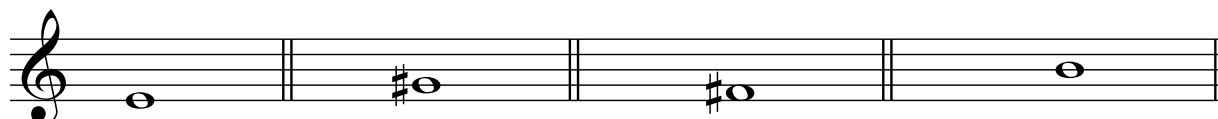
7. Zadate melodije prepisati u tenor ključ:



8x1,5
Ukupno:

(12)

8. Od zadatah tonova izgraditi alterovane akorde hromatskog tipa, naviše u osnovnom obliku:



Dvostruko
umanjeni

Tvrdo
umanjeni

Trostruko
umanjeni

Meko
umanjeni

4x2
Ukupno:

(8)

9. U zadatoj melodiji odredi tonalitet. Odredi mesto i akord dijatonskog preznačenja i upiši muzički oblik.

2+(4*2)

Ukupno:

(10)

10. Napisati i prevesti oznake za tempo, karakter i artikulaciju:

1. Ad libitum -----

2. Giocoso -----

3. Gentile -----

4. Ubrzavajući -----

5. Teško -----

6. Nošeno -----

6x1

Ukupno:

(6)

Komisija:

1.-----

2.-----

3.-----

Ukupno
bodova:

(100)