


4. Takmičenje „Kornelije” - 2017.
Ogledni test iz teorije - VI razred OMŠ
-IIIb kategorija-


1. Odredi intervale u sledećoj melodiji:



2. Izgradi trozvuke:




3. Izgradi i prepoznaj četvorozvuke:



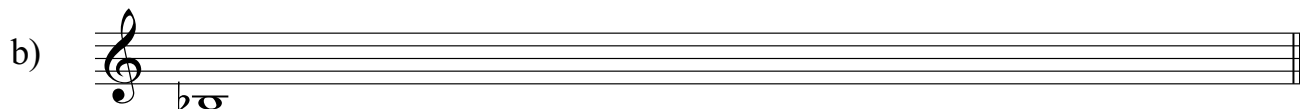
4. Prepoznaj tonalitete u datoj melodiji:



5. Izgradi lestvicu naviše od zadanog tona:



C moldur



b mol harmonski

6. Odredi mnogostranost kvintakorada:



I _____

II _____

IV _____

III _____

VII _____

V _____

7. Odgovori sa tačno (T) ili netačno (N) na sledeća pitanja:

a) Septima D7 se razrešava naniže?..... _____

b) Obrtaj M2 je M7?..... _____

v) Gornji tetrahord melodijskog mola je melodijski? _____

g) D₃⁶ se gradi od Č4 i V3?..... _____

d) Presto je spor tempo?..... _____

đ) Alla breve je takt $\frac{4}{4}$?..... _____