

4. Takmičenje „Kornelije“- 2017.  
Ogledni test iz teorije - V razred OMS  
-IIIa kategorija-

1. Napišite tačne predznake da bi melodija bila u g molu harmonskom:



2. a) Odredi vrstu tetrahorda:



\_\_\_\_\_

\_\_\_\_\_


b) Napiši tetrahorde naviše od zadatih tonova:



molski

frigijski

3. a) Izgradi intervale na zadatim tonovima:



M6↓

V3↑

M7↑

M2↓


U5↑

Č4↓

b) prepoznaj intervale i napiši šifru:




#### 4. Napiši trozvuke od zadatih tonova:



M<sub>3</sub><sup>5</sup>↓   D<sub>4</sub><sup>6</sup>↑   U<sub>3</sub><sup>5</sup>↓   M<sub>3</sub><sup>6</sup>↑   D<sub>3</sub><sup>5</sup>↓   D<sub>3</sub><sup>6</sup>↑   P<sub>3</sub><sup>5</sup>↓   M<sub>4</sub><sup>6</sup>↑

#### 5. Napiši hromatski znak ispred nota da bi akord bio tačan:



D7   U7   D7   D7

#### 6. Pronađi grešku u ritmu:



#### 7. Odgovori sa tačno (T) ili netačno (N) na sledeća pitanja:

- a) Kvintakordi imaju tri obrtaja? .....
- b) Obrtaj M<sub>3</sub> je V<sub>6</sub>?.....
- v) Largo je umeren tempo?.....
- g) Gornji tetrahord melodijskog f mola je C-D-E-F ? .....
- d) Postoje male i velike kvinte?.....
- đ) Frigijski tetrahord ima polustepen na početku?...