


# 9. Takmičenje "Kornelije" 2023.

## Teorija muzike

IIIc kategorija - V omš  
I grupa

-----  
Ime i prezime učenika

1. Napišite tačne predznake da bi melodija bila u fis - molu melodijskom:




-----  
(4 x 2,5)

Ukupno:

(10)


2. Odredi vrstu tetrahorda:

a)




-----  
(3+3)

b) Napiši tetrahorde naviše od zadatih tonova:



frigijski



molski

-----  
(3+3)

Ukupno:

(12)

3. Izgradi intervale na zadatim tonovima:

a)



Č5↓

M3↑

Pr2↓


M7↑

Č4↓

V6↑

-----  
(6x2)

b) prepoznaj intervale i napiši šifru:



-----  
(6x2)

Ukupno:

(24)

4. Napiši trozvuke od zadatih tonova:

M<sub>4</sub><sup>↑</sup> D<sub>3</sub><sup>↓</sup> Um<sub>3</sub><sup>↑</sup> D<sub>4</sub><sup>↓</sup> M<sub>3</sub><sup>↑</sup> M<sub>3</sub><sup>↑</sup> M<sub>3</sub><sup>↓</sup> Pr<sub>3</sub><sup>↑</sup>

(8 x 2,5)

Ukupno:

(20)

5. Napiši hromatski znak ispred nota, da bi akord bio tačan:

D7 Um7 Um7 D7

(4 x 2,5)

Ukupno:

(10)

6. Pronađi grešku u ritmu i obeleži zvezdicom:

(4 x 3)

Ukupno:

(12)

7. Odgovori sa tačno (T) ili netačno (N):

a) Dominantni septakord je trozvuk. ....

b) Kvantsekstakord je drugi obrtaj kvintakorda. ....

v) Andante je spor tempo. ....

g) Drugi tetrahord u melodijskom molu je molski. ....

d) Mala terca obuhvata 1 1/2 stepen. ....

đ) C - F je velika kvarta. ....

(6 x 2)

Ukupno:

(12)

Komisija: 1.-----  
2.-----  
3.-----

Ukupno:

(100)