

9. Takmičenje "Kornelije" 2023.

Teorija muzike

IIIg kategorija - III i IV smš

II grupa

Ime i prezime učenika


1. Prepoznaj lestvice zadatih melodija:

1 

2 

3 

4 

5 

6 

7 

Ukupno:

(7)

2. Komponovati melodiju od 8 taktova u H - duru sa zadatim zahtevima ispod taktova:

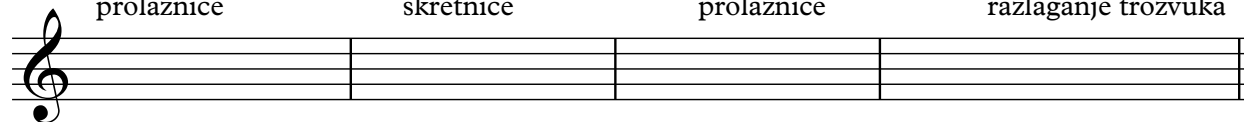


T _____
prolaznice

II _____
skretnice

D _____
prolaznice

VI _____
razlaganje trozvuka



8x2,5

Ukupno:

(20)

S _____
hromatske prolaznice

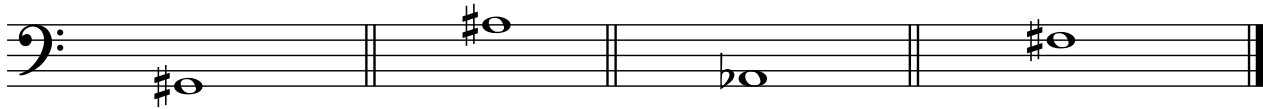
K _____
skretnice

D _____
prolaznice

T _____
zadržica

2

3. Izgraditi septakorde od zadatih tonova:



PUM↑

VD↓

MM↑

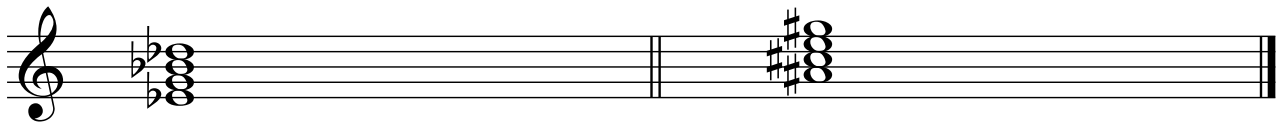
PR↓

4x2,5

Ukupno:

(10)

4. Prepoznati vrste septakorda i odrediti njihovu mnogostranost:



I-----

II-----

III-----

IV-----

V-----

VI-----

VII-----

I-----

II-----

III-----

IV-----

V-----

VI-----


VII-----

2x5

Ukupno:

(10)

5. Izgraditi šifrom obeležene akorde u određenim tonalitetima:



Des: DD₃⁴

g: N₃⁶

F: s₃⁶

D: VII_D⁴

b: -DD₃⁴

5x2

Ukupno:

(10)

6. Od zadatog basovog tona, prema šifri, izgraditi akord i odrediti mu funkciju u zadatom tonalitetu:

3



E: $\begin{matrix} 5 \\ 3 \end{matrix}$

f: $\begin{matrix} 6 \\ 4 \\ 3 \end{matrix}$

H: $\begin{matrix} 5 \\ 3 \end{matrix}$


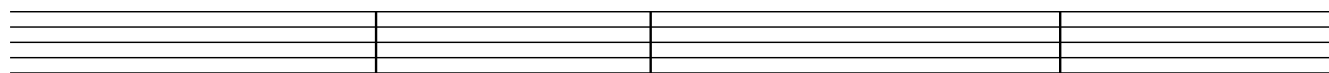


Des: $\begin{matrix} 6 \\ 4 \\ 3 \end{matrix}$

Es: $\begin{matrix} 6 \\ 3 \end{matrix}$

5x2
Ukupno:

(10)

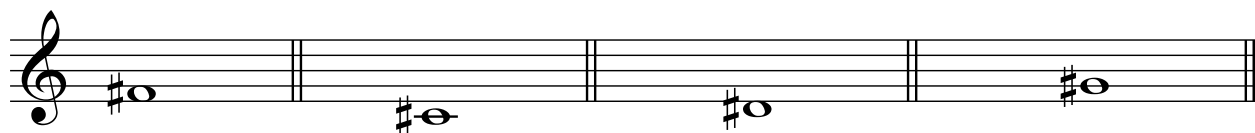
7. Zadatu melodiju prepisati u alt ključ:



8x1,5
Ukupno:

(12)

8. Od zadatih tonova izgraditi alterovane akorde hromatskog tipa, naviše u osnovnom obliku:



Dvostruko
umanjeni

Meko
umanjeni

Trostruko
umanjeni

Tvrdo
umanjeni

4x2
Ukupno:

(8)

9. U zadatoj melodiji odredi tonalitet. Odredi mesto i akord dijatonskog preznačenja i upiši muzički oblik.



2+(4*2)

Ukupno:

(10)

10. Napisati i prevesti oznake za tempo, karakter i artikulaciju:

1. Lento -----

2. Andantino -----

3. Calmo -----

4. grazioso -----

5. staccatissimo -----

6. Meno adagio -----

6x1

Ukupno:

(6)

**Ukupno
bodova:**

(100)