

# 9. Takmičenje "Kornelije" 2023.

## Teorija muzike

IIIg kategorija - III i IV smš  
I grupa

-----  
Ime i prezime učenika

1. Prepoznaj lestvice zadatih melodija:

1 

2 

3 

4 

5 


6 

7 

Ukupno:

(7)

2. Komponovati melodiju od 8 taktova u As - duru sa zadatim zahtevima ispod taktova:



T \_\_\_\_\_ II \_\_\_\_\_ D \_\_\_\_\_ VI \_\_\_\_\_  
prolaznice skretnice prolaznice razlaganje trozvuka



S \_\_\_\_\_ K \_\_\_\_\_ D \_\_\_\_\_ T \_\_\_\_\_  
hromatske prolaznice skretnice prolaznice zadržica

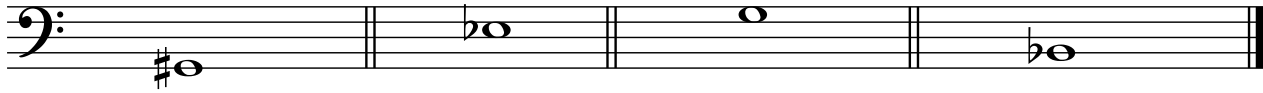
-----  
8x2,5

Ukupno:

(20)

2

3. Izgraditi septakorde od zadatih tonova:



VD↑

PUM↓

PR↓

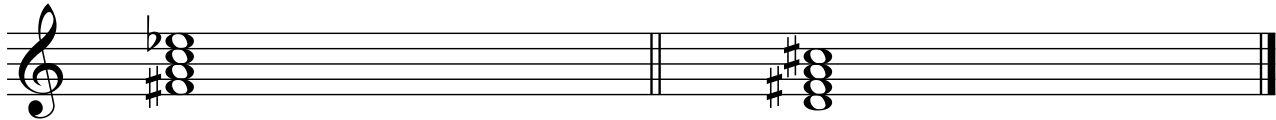
MM↑

4x2,5

Ukupno:

(10)

4. Prepoznati vrste septakorda i odrediti njihovu mnogostranost:



I-----

II-----

III-----

IV-----

V-----

VI-----

VII-----

I-----

II-----

III-----

IV-----

V-----

VI-----


VII-----

2x5

Ukupno:

(10)

5. Izgraditi šifrom obeležene akorde u određenim tonalitetima:



A: s  $\frac{6}{3}$

Es: VII<sub>D</sub>  $\frac{4}{3}$

H: DD  $\frac{6}{5}$

b: N  $\frac{6}{3}$

f: -DD<sup>2</sup>

5x2

Ukupno:

(10)

6. Od zadatog basovog tona, prema šifri, izgraditi akord i odrediti mu funkciju u zadatom tonalitetu:

3



As:  $\flat_3^5$

fis:  $\sharp_4^6$   
3

Es:  $\flat_3^5$


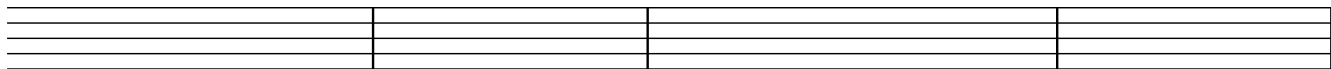
H:  $\sharp_4^6$   
3

B:  $\flat_3^6$

-----  
5x2  
Ukupno:

(10)

7. Zadate melodije prepisati u alt ključ:



-----  
8x1,5  
Ukupno:

(12)

8. Od zadatih tonova izgraditi alterovane akorde hromatskog tipa, naviše u osnovnom obliku:



Trostruko  
umanjeni

Meko  
umanjeni

Dvostruko  
umanjeni

Tvrdo  
umanjeni

-----  
4x2  
Ukupno:

(8)

9. U zadatoj melodiji odredi tonalitet. Odredi mesto i akord dijatonskog preznačenja i upiši muzički oblik.

2+(4\*2)  
**Ukupno:**  
 (10)

10. Napisati i prevesti oznake za tempo, karakter i artikulaciju:

1. Adagio -----
2. Allegretto -----
3. Eroico -----
4. Furioso -----
5. najvezanije -----
6. Allegro ma non troppo -----

6x1  
**Ukupno:**  
 (6)

**Komisija:**

- 1.-----
- 2.-----
- 3.-----

**Ukupno  
 bodova:**  
 (100)