

9. Takmičenje "Kornelije" 2023.

Teorija muzike

III kategorija - VI omš
II grupa

Ime i prezime učenika

1. Odredi intervale u sledećoj melodiji:

(20 x 0,5)

Ukupno:

(10)

2. Izgradi trozvuke:

(5x2)

D₃↑

U₄↓

P₃↓

M₃↓

D₄↑

Ukupno:

(10)

3. Izgradi navise i prepoznaj četvorozvuke:

(4x3)

VD⁷

D²

MM⁷

PU⁷

Ukupno:

(24)

4. Prepoznaj tonalitete u datoj melodiji:

a)

Polazni tonalitet:----- Ciljni tonalitet:-----
(5x2)


b)

Polazni tonalitet:----- Ciljni tonalitet:-----
(5x2)


Ukupno:

(20)

5. Izgradi lestvicu od zadatog tona u smeru strelice:

a)  ----- (6)

b - mol melodijski ↑


b)  ----- (6)

E moldur ↓

Ukupno:

(12)

6. Odredi mnogostranost kvintakorada:



I -----

II -----

IV -----

III -----

VII -----

V -----

(6 x 2)

Ukupno:

(12)

7. Odgovori sa tačno (T) ili netačno (N):

a) Dolce znači umereno. -----

b) PR3 je u obrtaju UM6. -----

v) Kompozicija mora početi tonikom. -----

g) D7 je po strukturi VD7. -----

d) Moldur lestvica ima tri polustepena. -----

đ) Dvostruko punktirana četvrtina jednaka je 7 šesnaestina. -----

(6 x 2)

Ukupno:

(12)

Komisija: 1.-----
 2.-----
 3.-----

Ukupno:

(100)