

9. Takmičenje "Kornelije" 2023.

Teorija muzike

III kategorija - VI omš
I grupa

Ime i prezime učenika

1. Odredi intervale u sledećoj melodiji:




(20 x 0,5)

Ukupno:

(10)

2. Izgradi trozvuke:



M₃↓

U₄↑

D₃↓

P₃↓

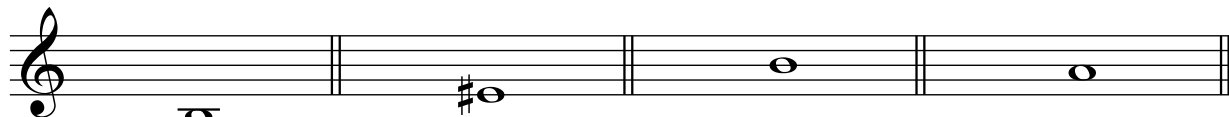
M₄↓

(5x2)

Ukupno:

(10)

3. Izgradi naviše i prepoznaj četvorozvuke:



VM⁷

U⁷

D₃

P⁷

(4x3)



(4x3)

Ukupno:

(24)

4. Prepoznaj tonalitete u datoj melodiji:

a)



Polazni

tonalitet:-----

Ciljni

tonalitet:-----

(5x2)

b)



Polazni

tonalitet:-----

Ciljni


tonalitet:-----

(5x2)

Ukupno:

(20)

5. Izgradi lestvicu od zadatog tona u smeru strelice:



Des - moldur ↑

(6)




fis - mol harmonski ↓

(6)

Ukupno:

(12)

6. Odredi mnogostranost kvintakorada:



I _____

II _____

IV _____

III _____

VII _____

V _____

(6 x 2)

Ukupno:

(12)

7. Odgovori sa tačno (T) ili netačno (N):

a) Tenuto je oznaka za artikulaciju. _____

b) $P \frac{6}{3}$ sadrži u sebi U4. _____

v) Presto spada u umeren tempo. _____

g) Gornji tetrahord moldura je harmonski. _____

d) Des je enharmonski Cis. _____

đ) Dvostruko punktirana četvrtina i osmina čine polovinu note. _____

(6 x 2)

Ukupno:

(12)

Komisija: 1. _____

2. _____

3. _____

Ukupno:

(100)