

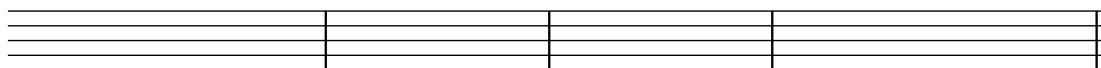
# 7. Takmičenje „Kornelije“ 2021.

## Teorija muzike

III f kategorija - II smš  
II grupa

-----  
Ime i prezime učenika

1. Zadatu melodiju prepisati u tenor ključ:



-----  
(0.5x20)

**Ukupno:**

(10)

2. Napisati tražene akorde u zadatom tonalitetu:



F - moldur:  $IV^{\frac{6}{3}}$

h:  $III^{\frac{6}{4}}$   
(harmonski)

As :  $VII^{\frac{6}{3}}$

g :  $VI^{\frac{6}{3}}$   
(melodijski)

-----  
(4x2)

**Ukupno:**

(8)

3. Prepoznaj četvorozvuke:

1. U harmonskom molu, četvorozvuk III stupnja je \_\_\_\_\_.

2. U duru, četvorozvuk VI stupnja je \_\_\_\_\_.

3. U molduru, četvorozvuk IV stupnja je \_\_\_\_\_.

-----  
(3x2)

**Ukupno:**

(6)

4. Izgradi četvorozvuke u zadatom tonalitetu:



G:  $II^{\frac{7}{3}}$

a:  $V^{\frac{4}{3}}$   
(harmonski)

F - moldur:  $VII^{\frac{6}{3}}$

e:  $IV^{\frac{4}{2}}$   
(melodijski)

-----  
(4x2.5)

**Ukupno:**

(10)

5. Odredi tonalitet i šifru četvorozvuka V i VII stupnja, zacrni kritične tonove i napiši njihova razrešenja:



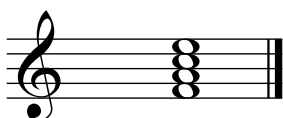
-----

(4x3)

**Ukupno:**

(12)

6. Napiši vrstu i mnogostranost septakorada:



\_\_\_\_\_

\_\_\_\_\_

I \_\_\_\_\_

II \_\_\_\_\_

III \_\_\_\_\_

III \_\_\_\_\_

IV \_\_\_\_\_

IV \_\_\_\_\_

V \_\_\_\_\_

VI \_\_\_\_\_

VI \_\_\_\_\_

VII \_\_\_\_\_

-----  
(1+5)+(1+5)

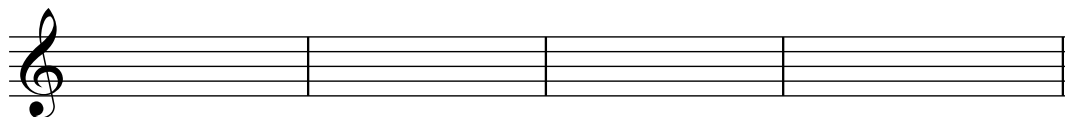
**Ukupno:**

(12)

7. Odredi tonalitet zadate melodije pa je prebaci u ciganski a - mol:



\_\_\_\_\_



-----  
4+(4x2.5)

**Ukupno:**

(14)

8. Odredi i upiši tonalitet zadate melodije. Broj ponuđenih termina pravilno razvrstaj u kvadrate.

- |                           |                           |
|---------------------------|---------------------------|
| 1. Mutacija               | 6. Alteracija #I          |
| 2. Hromatska skretnica    | 7. Hromatska prolaznica ↓ |
| 3. Alteracija ♭II         | 8. Harmonski mol          |
| 4. Modulacija             | 9. Melodijski mol         |
| 5. Hromatska prolaznica ↑ | 10. Alteracija #IV        |

(6x2)  
**Ukupno:**  
  
**(12)**

9. Komponovati melodiju sa zadatim zahtevima:

(8x2)  
**Ukupno:**  
  
**(16)**

Komisija:

1. \_\_\_\_\_
2. \_\_\_\_\_
3. \_\_\_\_\_

**Ukupno:**