

# 6. Takmičenje "Kornelije" 2019.

## Teorija muzike

**Illa kategorija**  
**II grupa**

-----  
Ime i prezime učenika

1. Napišite tačne predznake da bi melodija bila u fis-molu melodijskom:




-----  
(4 x 2,5)

Ukupno:

(10)

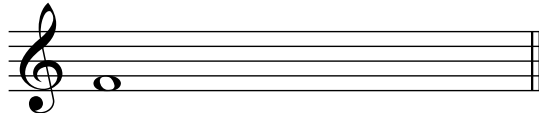
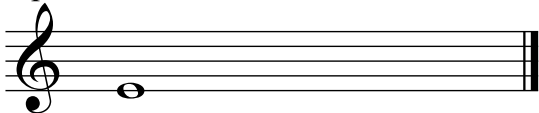
2. Odredi vrstu tetrahorda:

a)



-----  
(3+3)

b) Napiši tetrahorde naviše od zdatih tonova:



frigijski

molski


-----  
(3+3)

Ukupno:

(12)

3. a) Izgradi intervale na zdatim tonovima:

a)



Č5↓

M2↑

V6↑


V7↓

Č4↑

V3↑

-----  
(6x2)

b) prepoznaj intervale i napiši šifru:



-----  
(6x2)

Ukupno:

(24)

4. Napiši trozvuke od zadatih tonova:

Um<sub>3</sub>↑ M<sub>4</sub>↓ D<sub>3</sub>↓ Pr<sub>3</sub>↑ D<sub>4</sub>↓ M<sub>3</sub>↓ D<sub>3</sub>↑ Um<sub>3</sub>↓

( 8 x 2,5 )  
Ukupno:  
(20)

5. Napiši hromatski znak ispred nota, da bi akord bio tačan:

D7 Um7 Um7 D7

( 4 x 2,5 )  
Ukupno:  
(10)

6. Pronađi grešku u ritmu i obeleži zvezdicom:

( 4 x 3 )  
Ukupno:  
(12)

7. Odgovori sa tačno (T) ili netačno (N):

- a) Gornji tetrahord A- dura je E-F-GIS-A. ....
- b) „Mezzo forte" znači „veoma glasno". ....
- v) Obrtaj V<sub>6</sub> je V<sub>3</sub>. ....
- g) Interval je sazvučje od 3 tona. ....
- d) Postoje umanjene oktave. ....
- đ) Legato znači veoma povezano. ....

( 6 x 2 )  
Ukupno:  
(12)

Komisija: 1.-----  
2.-----  
3.-----

Ukupno:  
(100)