

6. Takmičenje "Kornelije" - 2019.

Teorija muzike

IIIc kategorija
I grupa

Ime i prezime učenika

1. Napiši i prepoznaj sledeće tonove :

(10x0,5)

Ukupno:

(5)

2. a) Prepoznaj intervale i upiši šifru:

(5x1)

b) Napiši intervale od zadatog tona:

(5x1)

Ukupno:

(10)

3. a) Napiši trozvuke naviše od zadatog tona:

(3x1)

b) Napiši trozvuke na glavnim stupnjevima u zadanom tonalitetu:

(3x1)


c) Napiši trozvuke naviše u zadanom tonalitetu:

(3x1)

Ukupno:

(9)

4. a) Napiši šifru četvorozvuka i odredi tonalitet:



(5x1)

b) U zadatim tonalitetima napiši tražene četvorozvuke:



G : D₃⁴

c : U⁷

A : D₅⁶

f : D²

(4x2)

Ukupno:

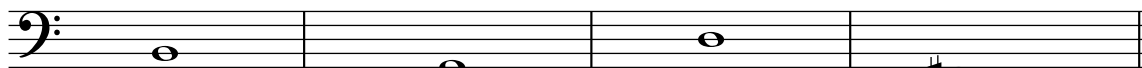
(13)

5. a) Prepoznaj septakorde i odredi šifru:



(5x1)

b) Napiši septakorde naviše od zadatog tona:



VM⁷

MM⁷

PR⁷

PU⁷

(4x2)

Ukupno:

(13)

6. a) Odredi mnogostranost kvintakorda:



I -----

II-----

III-----

IV-----

V-----

VI-----


VII-----

(8x1)

Ukupno:

(8)

7. a) Napiši tetrahord od zadanog tona i odredi mnogostranost:



Durski ↓

D:-----

G:-----

b) Prepoznaj tetrahord i odredi mnogostranost:



D:-----

G:-----

(4+4)

v) Napiši i utvrdi tip gornjeg tetrahorda u zadatoj lestvici:



es - mol
prirodni:-----

Cis -


moldur:-----

(2+2)


Ukupno:

(12)

8. Napisati hromatsku dursku i molsku lestvicu:



Hromatski Es - dur



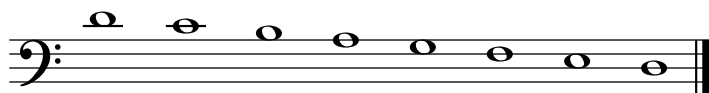
Hromatski g - mol

(3+3)


Ukupno:

(6)

9. a) Prepoznaj modus i odredi karakterističan interval:



b) Napiši modus naviše i obeži karakterističan interval:




Miksolidijski od H

(3+3)
 Ukupno:

 (6)


10. a) Prepoznaj tonalitet u napisanoj melodiji:





(4+4)

b) Prvu melodiju transponovati u zadati tonalitet:



g - mol

(4x1)

Ukupno:

(12)

11. Poveži ista značenja:

Seconda volta Brzo, hitro

Vivace Raspevano

Decresendo Drugi put

Cantabile Široko

Largo Veselo

Allegro Postupno tiše

(6x1)

Ukupno:

(6)

Ukupno:

Komisija: 1.----- 2.----- 3.-----

(100)