

# 5. Takmičenje "Kornelije"- 2018.

## Teorija muzike

**IIIc kategorija**  
**II grupa**

-----  
Ime i prezime učenika

**1. Napiši i prepoznaj sledeće tonove :**

(10x0,5)

Ukupno:

**2. a) Prepoznaj intervale i upiši šifru:**

(5x1)

**b) Napiši intervale od zadatog tona:**

(5x1)

Ukupno:

**3. a) Napiši trozvuke naviše od zadatog tona:**

(3x1)

**b) Napiši trozvuke na glavnim stupnjevima u zadanom tonalitetu:**

b-mol melodijski

(3x1)

**c) Napiši trozvuke naviše u zadanom tonalitetu:**

(3x1)

Ukupno:

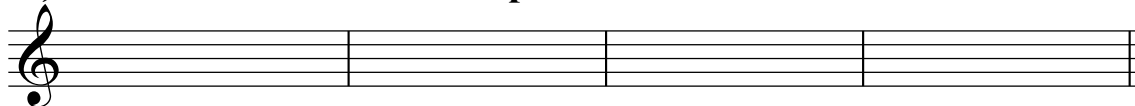
(9)

4. a) Napiši šifru četvorozvuka i odredi tonalitet:



(5x1)

b) U zadatim tonalitetima napiši tražene četvorozvuke:



B : D<sup>♯</sup>

A : U<sup>7</sup>


es: D<sub>2</sub>

fis: D<sub>3</sub><sup>♯</sup>

(4x2)

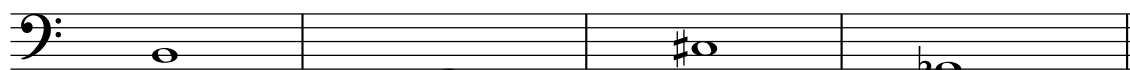
Ukupno:

5. a) Prepoznaj septakorde i odredi šifru:



(5x1)

b) Napiši septakorde navise od zadatog tona:



MM<sub>7</sub>

PU<sup>7</sup>

VD<sup>7</sup>

PR<sup>7</sup>

(4x2)

Ukupno:

6. a) Odredi mnogostranost kvintakorda:



I -----

V-----

II -----

VI-----

III-----

VII-----


IV-----

(8x1)

Ukupno:

(8)

7. a) Napiši tetrahord od zadatog tona i odredi mnogostranost:




durski ↑

D:-----

G:-----

b) Prepoznaj tetrahord i odredi mnogostranost:




D:-----

G:-----

(4+4)

v) Napiši i utvrdi tip gornjeg tetrahorda u zadatoj lestvici:



Ges

moldur:-----

gis -mol

prirodni:-----

(2+2)

Ukupno:

(12)

8. Napisati hromatsku dursku i moltsku lestvicu:



Hromatski As- dur †

hromatski h - mol†

(3+3)


Ukupno:

9. a) Prepoznaj modus i odredi karakterističan interval:



(6)

b) Napiši modus navise i obeleži karakterističan interval:



Dorski od c

(3+3)

Ukupno:


(6)

10. a) Prepoznaj tonalitet u napisanoj melodiji:



(4+4)

b) Prvu melodiju transponovati u zadati tonalitet:



(4x1)

Ukupno:

(12)

11. Poveži ista značenja:

Allegro

Korakom

Moderato

Veselije

Andante

Veselo

Sostenuto

Umereno

Allegretto

Povezano

Legato

Zatežuće

(6x1)

Ukupno:

(6)

Ukupno:

Komisija: 1.-----2.-----3.-----

(100)